

## さんすうガッテン!! プリント

きょうのガッテンと

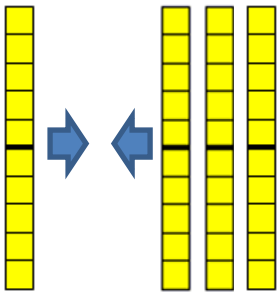


1ねん たしざん

くみ ばん なまえ

力をのばそう

みさきさんは、 $10 + 30 = 40$  の けいさんの しかたを ブロックを つかっ  
て したのように せつめいしました。



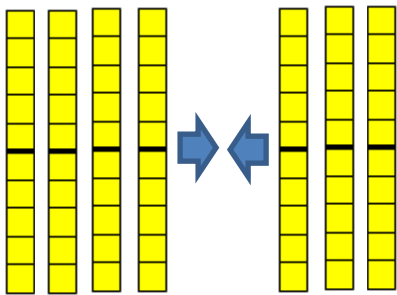
$10 + 30$  は、 $10$  のまとまりが  
 $1 + 3$  で  $4$  こになるから、こたえは  
 $40$  になります。



みさきさん

- 1 あかい おりがみが  $40$  まいと、あおい おりがみが  $30$  まい あります。  
ぜんぶで なんまい あるでしょう。

しき



こたえ

けいさんの しかたを みさきさんのように ブロックを つかって せつめいしま  
しょう。


## さんすうガッテン!! フォント

きょうのガッテンと



1ねん たしざん

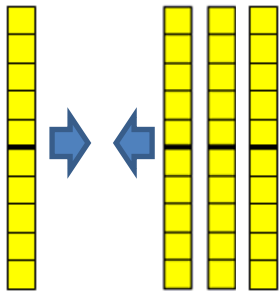
くみ

ばん

なまえ

力をのばそう

みさきさんは、 $10 + 30 = 40$  の けいさんの しかたを ブロックを つかって したのように せつめいしました。



$10 + 30$  は、 $10$  のまとまりが  
 $1 + 3$  で  $4$  こになるから、こたえは  
 $40$  になります。

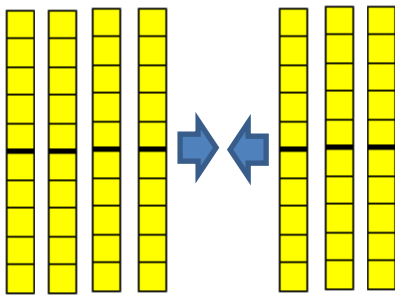


みさきさん

- ① あかい おりがみが  $40$  まいと、あおい おりがみが  $30$  まい あります。  
ぜんぶで なんまい あるでしょう。

しき

$$40 + 30 = 70$$



こたえ

70まい

けいさんの しかたを みさきさんのように ブロックを つかって せつめいしま  
しょう。

$40 + 30$  は、 $10$  のまとまりが

$4 + 3$  で  $7$  こになるから、こたえは

$70$  になります。

