

さんすうガッテン!! プリント

きょうのガッテンと



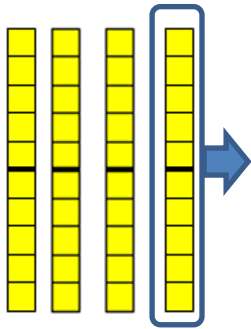
1ねん ひきざん

くみ

ばん なまえ

力をのばそう

ともやさんは、 $40 - 10 = 30$ の けいさんの しかたを ブロックを つかっ
て したのように せつめいを しました。



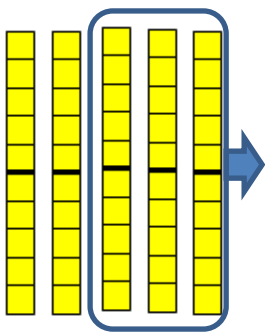
$40 - 10$ は、 10 のまとまりが
 $4 - 1$ で 3 こになるから、こたえは
 30 になります。



ともやさん

- ① おりがみが 50 まい あります。 30 まい つかうと のこりは なんまいに
なるでしょう。

しき



こたえ

けいさんの しかたを ともやさんのように ブロックを つかって せつめいしま
しょう。

算数ガッテン!! フォント

今日のガッテン度



1ねん ひきざん

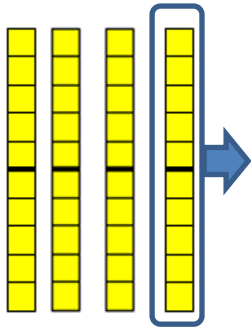
くみ

ばん

なまえ

力をのばそう

ともやさんは、 $40 - 10 = 30$ の けいさんの しかたを ブロックを つかって したのように せつめいを しました。



$40 - 10$ は、 10 のまとまりが
 $4 - 1$ で 3 こになるから、こたえは
 30 になります。

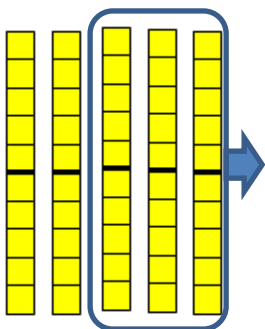


ともやさん

- ① おりがみが 50 まい あります。 30 まい つかうと のこりは なんまいになるでしょう。

しき

$$50 - 30 = 20$$



こたえ

20まい

けいさんの しかたを ともやさんのように ブロックを つかって せつめいしましょう。

$50 - 30$ は、 10 のまとまりが

$5 - 3$ で 2 こになるから、こたえは

20 になります。

