

# さんすうガッテン!! フリント

きょうのガッテンと



1年 ながさくらべ

くみ

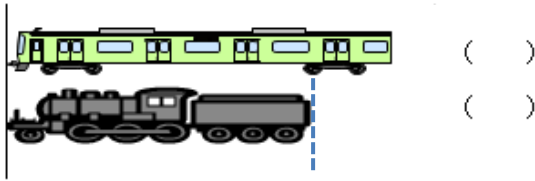
ばん

なまえ

## 基礎の確認

1 みじかいほうに ○を つけましょう。

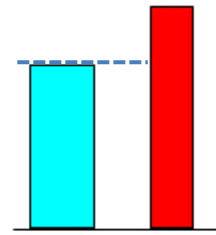
(1)



( )

( )

(3)



( ) ( )

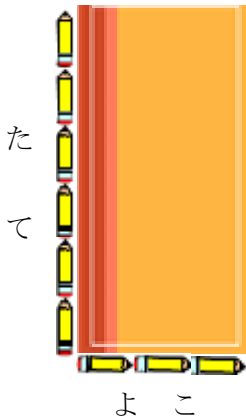
(2)



( )

( )

2 かみの たてと よこの ながさを おなじながさの えんぴつで くらべました。どちらが どれだけ ながいでしょうか。  に あてはまる かずや ことばを かきましよう。

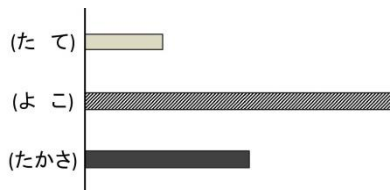
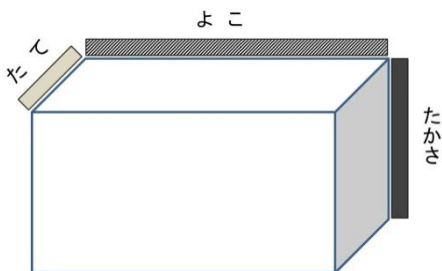


たては えんぴつ 6ぽんぶんです。

よこは えんぴつ  ぽんぶんです。

だから  が えんぴつ  ぽんぶんながいです。

3 はこの たてと よこと たかさを テープを つかって くらべました。いちばん ながいのは たてと よこと たかさの どれでしょう。



こたえ

# さんすうガッテン!! フリント

きょうのガッテンと



1年 ながさくらべ

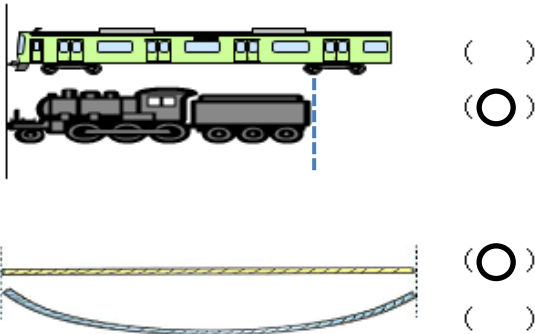
くみ

ばん なまえ

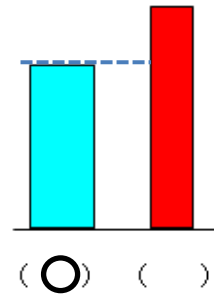
## 基礎の確認

1 みじかいほうに ○を つけましょう。

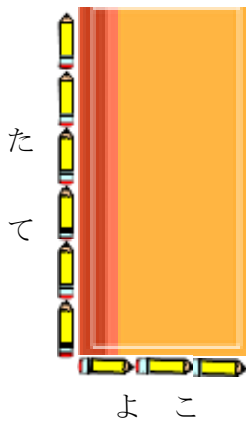
(1)



(2)



2 かみの たてと よこの ながさを おなじながさの えんぴつで くらべました。どちらが どれだけ ながいでしょうか。□ に あてはまる かずや ことばを かきましよう。

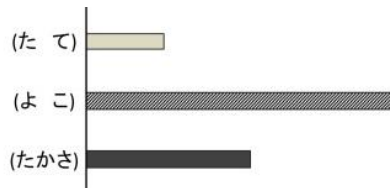
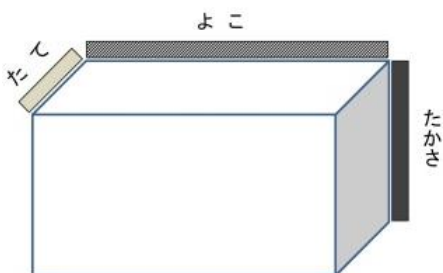


たては えんぴつ 6ぽんぶんです。

よこは えんぴつ **3** ぽんぶんです。

だから **たて** が えんぴつ **3** ぽんぶん  
ながいです。

3 はこの たてと よこと たかさを テープを つかって くらべました。いちばん ながいのは たてと よこと たかさの どれでしょう。



こたえ

**よこ**